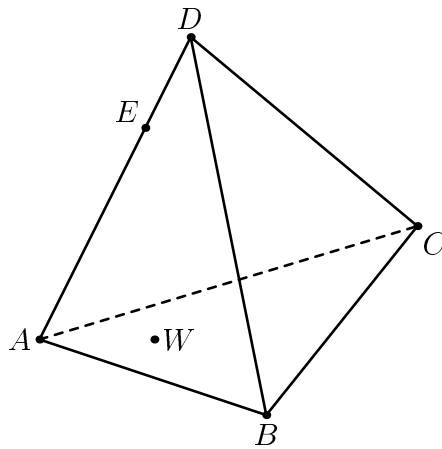
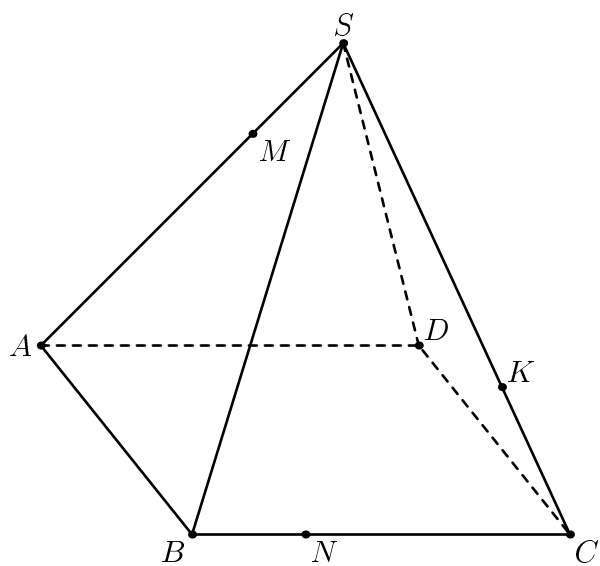


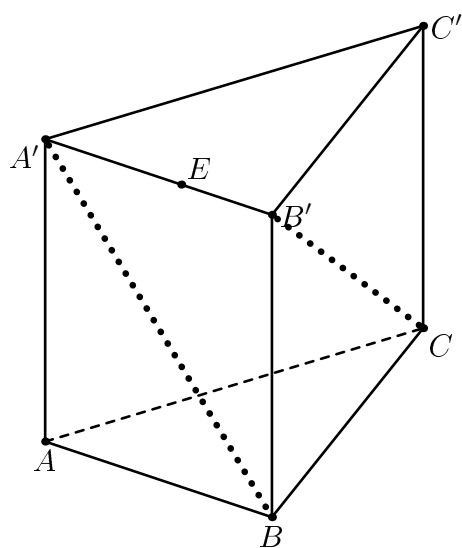
Задание 1. Постройте сечение куба плоскостью (PQR) .



Задание 2. Точка W лежит в плоскости (ABC) .
Постройте пересечение прямой (WD) и плоскости (BEC) .

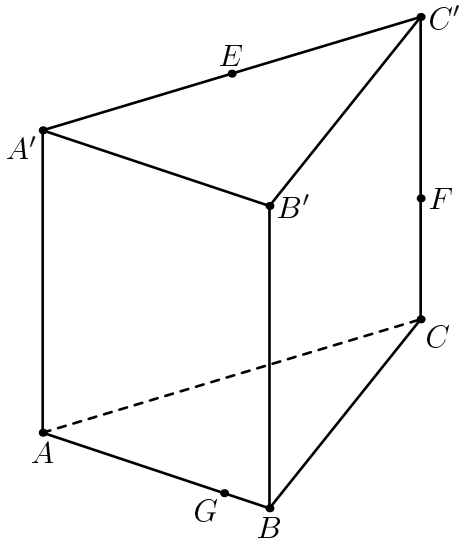


Задание 3. Постройте сечение правильной пирамиды плоскостью (MNK) .

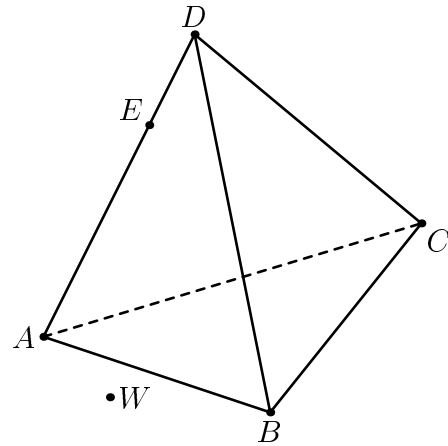


Задание 4. Постройте сечение призмы плоскостью, проходящей через E и параллельной прямым $(A'B)$ и $(B'C)$.

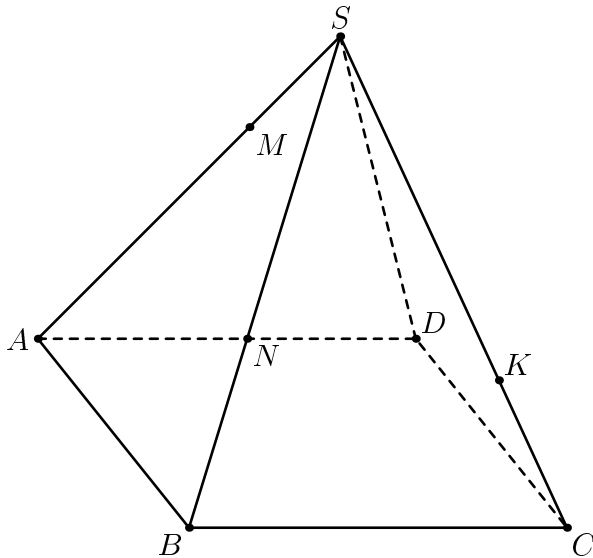
10 "А", биологи, геометрия, 19 ноября, домашнее задание.
 Аккуратно перерисуйте в тетрадь или вырежьте и наклейте.



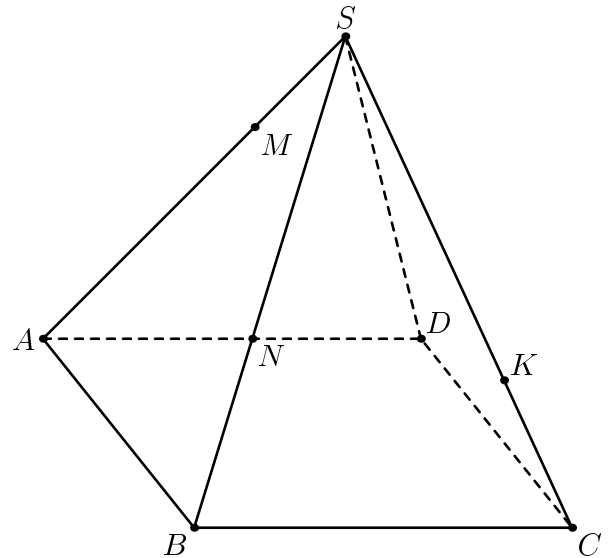
Постройте сечение призмы плоскостью (EFG)



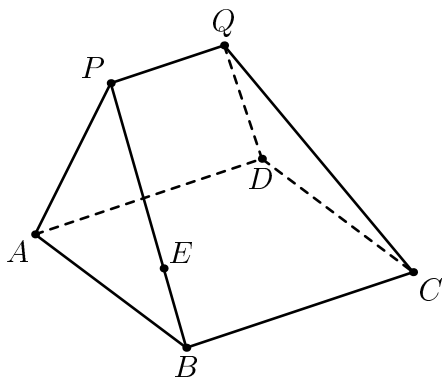
Точка W лежит в плоскости (ABC) .
 Постройте пересечение прямой (WD) и плоскости (BEC) .



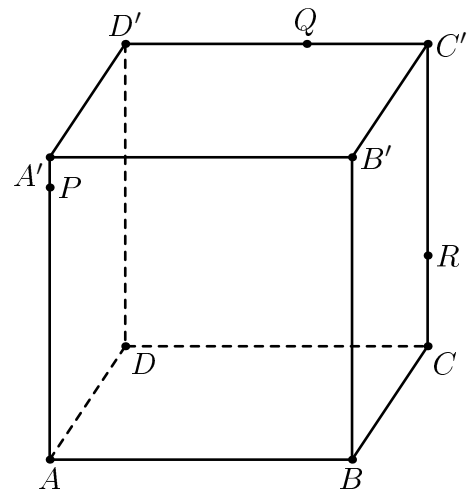
Считайте, что N лежит на (BS) .
 Постройте сечение пирамиды плоскостью (KNM) .



Считайте, что N лежит на (AD) .
 Постройте сечение пирамиды плоскостью (KNM) .



Постройте сечение "палатки" плоскостью, проходящей через E и параллельной прямым AQ и QC .



Постройте пересечение плоскостей (BPQ) и $(AD'R)$.